

5 SOSYAL BİLGİLER

- MEB ÖĞRETİM PROGRAMINA UYGUN
- MEB'İN HAZIRLADIĞI ÖRNEK SORULARA BENZER SORULAR
- TARAMA ŞEKLİNDE HAZIRLANMIŞ DENEMELER
- ÖZGÜN VE NİTELİKLİ SORULAR

30
DENEME
300
SORU

BRANŞ
DENEMELERİ

VIDEO ÇÖZÜMLÜ

Ömer KILIÇ
Cüneyt BANAN

İSLAMİYEH
ZEKA

MANTIK / MUHAKEME
SÖZEL YETENEK
AKIL YÜRÜTME

5

SOSYAL BİLGİLER

- MEB ÖĞRETİM PROGRAMINA UYGUN
- MEB'İN HAZIRLADIĞI ÖRNEK SORULARA BENZER SORULAR
- TARAMA ŞEKLİNDE HAZIRLANMIŞ DENEMELER
- ÖZGÜN VE NİTELİKLİ SORULAR

30 DENEME
300 SORU

BRANŞ
DENEMELERİ

VIDEO ÇÖZÜMLÜ

Ümit KILIÇ
Cüneyt BANAN

İSLEYEN
ZEKA

MANTIK / MUHAKEME
SÖZEL YETENEK
AKIL YÜRÜTME

Copyright ©

Bu kitabın her hakkı yayınevine aittir. Hangi amaçla olursa olsun, bu kitabın tamamının ya da bir kısmının, kitabı yayımlayan yayınevinin önceden izni olmaksızın elektronik, mekanik, fotokopi ya da herhangi bir kayıt sistemi ile çoğaltılması, yayımlanması ve depolanması yasaktır.

111219-B1

ISBN: 978 – 605 – 250 – 266 – 2



Yayın Koordinatörü

Selim AKGÜL



Yazarlar

Ümit KILIÇ

Cüneyt BANAN



Editör

Merve ER



Dizgi

İşleyen Zeka Dizgi Birimi



Basım Yeri



İŞLEYEN ZEKA YAYINCILIK

Ostim Mahallesi, Enerji Caddesi, 1207. Sokak, No: 3/C-D

Ostim, Yenimahalle / ANKARA

Tel: (0850) 302 20 90 • (0549) 814 44 13



Değerli Öğretmen Arkadaşlarım ve Sevgili Öğrenciler,

Eğitim öğretim sürecinde öğrencilerimiz çeşitli sınavlarla karşılaşmaktadır. Öğrencilerimizin bu süreci başarılı bir şekilde tamamlamalarında onlara destek olmak amacıyla “İşleyen Zeka Yayınları” olarak uzman bir kadroyla çalışmalarımızı sürdürüyoruz.

Yayın çalışmalarımızı Talim ve Terbiye Kurulu Başkanlığının yayımladığı öğretim programlarına göre hazırlıyoruz. İçeriklerimizi hazırlarken kazanım eksenli çalışıyor, konu anlatımlarında ve sorularda tüm kazanımları işliyoruz. Kazanım dışında kalan içeriklere ve sorulara yayınlarımızda yer vermiyoruz. Müfredat değişikliklerini anında takip ederek ve yayınlarımızı sürekli güncelleyerek öğrencilere her zaman yeni müfredata göre sunuyoruz.

“İşleyen Zeka Yayınları” olarak yaptığımız ihtiyaç analizleriyle öğrencilerin farklı şekilde oluşan ihtiyaçlarını gidermek için ürün yelpazemizde birbirinden farklı çalışmalara yer veriyoruz. Bu kapsamda “yörünge serisi, tüm dersler konu anlatımı, tüm dersler soru bankası, yaprak test ve denemeler” gibi farklı yayınlarla karşınıza çıkıyoruz.

Kitabın hazırlanmasında emeği geçen Mehmet DEMİR, Yasin ALTINTAŞ, Hayrullah AYGÜN, Yaşar ŞAHPAZ, Hacı TUNCEL, Fehmi BİÇER, Özcan YILDIZ, Halil ŞAHİN öğretmenlerimize teşekkür ederiz.

“İşleyen Zeka Yayınları”nın size en uygun ürününü seçerek sizler de başarıya emin adımlarla koşabilirsiniz. Başarı dilekleriyle...

Selim AKGÜL

Yayın Koordinatörü

selimakgul@isler.com.tr

Bu testte 10 soru vardır. Önerilen süre 15 dakikadır.

1.

28 Temmuz 2017 tarihinde İstanbul'da aniden başlayan dolu yağışı herkesi hazırlıksız yakaladı. Öyle ki dışarda doluya yakalanan bazı insanların yaralanmasına ve hastanelere akın etmelerine sebep oldu. Dolu yağışı, çok sayıda



iş yeri, ev ve arabaların camlarının kırılmasına ve araçların kaportasında göçük oluşmasına

neden oldu. Dolu yağışı ev ve iş yerlerinin cephelerini ve çatılarında bulunan kiremitleri delik deşik etti. Elektrik ve internet hatlarında kesintilere neden olmakla yetinmeyip kentte yaşamın bir anda felç olmasına yol açtı.



Verilen gazete haberine bakılarak aşağıdakilerden hangisi söylenebilir?

- A) Dolu yağışıyla ilgili olayların sonuçları kontrol edilebilir.
 B) Dolu yağışıyla ilgili olaylar sadece olumsuz sonuçlarına göre değerlendirilebilir.
 C) Dolu yağışıyla ilgili olaylar süreklilik gösterebilir.
 D) Dolu yağışıyla ilgili meydana gelen olaylar farklı sonuçlar doğurabilir.

2. I. Geçmişimizi ve kültürümüzü öğrenmemizi sağlar.
 II. Yaşadığımız coğrafyayı, çevremizi ve dünyayı tanımamızı sağlar.
 III. Haklarımızı, sorumluluklarımızı ve özgürlüklerimizi öğrenmemizi sağlar.

Sosyal bilgiler dersinin bizlere kazandırdığı özelliklerle ait olduğu alanlar hangi seçenekte doğru eşleştirilmiştir?

	Hukuk	Tarih	Coğrafya
A)	I	III	II
B)	III	I	II
C)	II	I	III
D)	I	II	III

İşleyen Zeka Yayınları

3. Birleşmiş Milletler tarafından 20 Kasım 1989 tarihinde kabul edilen Çocuk Hakları Sözleşmesi; nerede doğduklarına, kim olduklarına, cinsiyetlerine, dinlerine ve etnik kökenlerine bakılmaksızın bütün çocukların haklarını tanımlayarak, yaşama hakkı başta olmak üzere; eksiksiz biçimde gelişme hakkı; zararlı etkilerden, istismar ve sömürüden korunma hakkı; aile, kültür ve sosyal yaşama eksiksiz katılma hakkını içermektedir.

Buna göre "Çocuk Hakları Sözleşmesi" çocuğa aşağıdaki haklardan hangisini sağlamaz?

- A) Hiçbir özelliğine bakılmaksızın korunma hakkı kazanmasını
 B) Yaşama hakkına sahip olmasını
 C) İsteddiği eşyayı ücretsiz alabilmesini
 D) İstismara uğramaktan korunmasını

4.



Verilen görsel ve bilgiler incelendiğinde,

- Asya ve Orta Doğu ülkelerinden göç eden çocuk sayısı, diğer kıtalarda göç eden çocuk nüfusundan daha fazladır.
- Mülteci konumundaki çocukların büyük çoğunluğu eğitim hakkını kullanamamaktadır.
- Göç etmek zorunda kalan çocukların temel haklarının çoğu kısıtlanmaktadır.

yargılarından hangilerine ulaşılabilir?

- A) Yalnız I. B) I ve III. C) II ve III. D) I, II ve III.

5. Ayşe, işe yürüyerek gidip gelmektedir. Fakat trafiğin çok yoğun olduğu ve yaya geçidinin olmadığı cad-deden karşıya geçmek istediğinde sıkıntı yaşamaktadır. Bu durum Ayşe için tehlikeli olduğu kadar sürücüler için de büyük risk oluşturmaktadır.

Metindeki olay örgüsü dikkate alındığında aşağıdakilerden hangisi söylenebilir?

- A) Bir olayın sadece sonucuna bakılmalıdır.
B) Olaylar sadece çocukları etkiler.
C) Bir olay birden fazla kişiyi etkileyebilir.
D) Tüm olaylar aynı sebeple ortaya çıkar.

6. Türkiye’de kişi başına düşen plastik tüketimi son 3 yılda % 11,5 artışla 2018’de 90,1 kg’a yükselirken uzmanlar plastik atıkların çevresel ve ekonomik etkilerinin geri dönüşümü önüne geçilebileceğini belirtiyor. Bu gelişme üzerine “Çevre Kanunu” kapsamında 1 Ocak 2019 tarihi itibarıyla yapılan yasal bir düzenleme ile naylon alışveriş poşeti 0,25 kuruş olarak ücretlendirildi. Naylon poşet yerine file ve bez torba üreten firmalar halk tarafından kabul gördü. İnsan sağlığı ve çevre açısından olumlu bir gelişme olarak görülen bu olaya tepki gösteren vatandaşlarımız da oldu. 2019’un 6 aylık verilerine bakıldığında bir önceki döneme oranla plastik tüketim oranında azalma görülmüştür.

Bu metin incelendiğinde aşağıdaki yargılardan hangisine ulaşılamaz?

- A) Plastik kullanımındaki artışın yasal bir düzenlemeye neden olduğuna
 B) Türkiye’de kişi başına düşen plastik kullanımının her geçen gün artmakta olduğuna
 C) Naylon poşetin ücretlendirilmesine gelen olumsuz tepkiler üzerine geri adım atıldığına
 D) Türkiye’nin çevre bilinci konusunda halkın desteğini alarak gözle görülür bir başarı sağladığına
7. Sosyal bilgiler dersinin bireye olan katkısına örnekler verilmiştir:

a	Yaşamında karşısına çıkabilecek sorunları çözecek şekilde hayata hazırlar.
b	Yaşadığı olaylardan nasıl bir ders çıkarması gerektiği konusunda bilinçlendirir.
c	Yaşadığı toplumla barışık olmayı ve empati kurmayı öğretir.
d	Kendi dil, kültür, tarih ve coğrafyasının özelliklerini öğretir.

Sosyal bilgiler dersinin sağladığı katkılarla,

- I. Emine, genel ağ üzerinden yazışırken kullandığı kelimelerin yazılışına dikkat eder.
 II. Serdar, Suriye’de yaşanan iç savaştan ötürü ülkemize sığınan mültecilere karşı çok anlayışlı davranır.
 III. Hatice ve Mehmet, mahallede toplanmayan çöplerin kaldırılması için belediyeye dilekçe yazarak bu tarz olayların yaşanmaması için işin takipçisi olacaklarını belirtirler.

numaralandırılmış davranışlar eşleştirildiğinde aşağıdakilerden hangisi doğru olur?

	I	II	III
A)	d	b	a – c
B)	a	d	b – c
C)	a	b – c	b – c
D)	d	c	a – b

8.



Denizciler pusula bulunmadan önce okyanuslarda kaybolmamak için kıyıları takip ediyorlardı. Pusulanın bulunmasıyla birlikte uzak yerlere yolculuk etmeye başladılar. Bu yolculuklar sonucunda yeni kıtalar keşfettiler. Keşfedilen yerlerde bulunan farklı ürünler dünyanın çeşitli yerlerine götürüldü. Örneğin Amerika'da yetişen patates ve domates gibi ürünler dünyanın birçok yerinde yetiştirilmeye başlandı.

Bu metindeki gelişmelere bakıldığında olayların hangi özelliği üzerinde durulduğu söylenebilir?

- A) Bir olayın sadece bir sebebi vardır.
- B) Olaylar ortaya çıktıkları zamana göre değerlendirilmelidirler.
- C) Bir olayın birden fazla sebep ve sonucu olabilir.
- D) Yaşanan olay sadece olayı yaşayan kişileri etkiler.

9. Sosyal bilgiler eğitimi alan bir öğrenci aşağıda verilen davranışlardan hangisini yapmaz?

- A) Toplu taşıma araçlarına bindiğinde yaşlı, gazi, hamile ve engelli vatandaşlarımıza yer vermesi gerektiği bilir ve öyle davranır.
- B) Alışveriş yaptıktan sonra mutlaka alışveriş fişini alır.
- C) Toplumda farklı özelliklere sahip bireylerin olduğunu bilir ve onlara gereken hassasiyeti gösterir.
- D) Trafik kurallarının bazı durumlarda ihlal edilebileceğini düşünür.

10. I. Ödevlerini yapmak
II. Hastaları tedavi etmek
III. Güvenliği sağlamak

Yukarıda verilen davranışlar sırası ile hangi rolleri gerektirir?

	I	II	III
A)	Öğretmen	Doktor	İtfaiyeci
B)	Öğrenci	Doktor	Polis
C)	Anne	Hemşire	Avukat
D)	İzci	Mühendis	Doktor

Bu testte 10 soru vardır. Önerilen süre 15 dakikadır.

1. Ülkemizde yaşayan her vatandaşın hakları ve sorumlulukları bulunmaktadır. İşte sosyal bilgiler dersi bu noktada bizim etkin ve sosyal bir vatandaş olarak hak ve sorumluluklarımızın farkında olmamıza katkı sağlar. Böylece Türkiye Cumhuriyeti'nin etkin bir vatandaşı olarak sosyal bilgiler dersinin kişisel gelişimimize katkılarını yaşantımızda gösterebiliriz.

Buna göre hangi seçenekte verilen durum etkin vatandaşların davranışlarından biri değildir?

- A) Vergilerini düzenli ödeyerek ülke ekonomisine katkıda bulunmak
B) Seçimlerde oy kullanarak ülke yönetimine katkı sağlamak
C) Haklarını kullanarak diğer vatandaşlardan daha ayrıcalıklı olmak
D) Sorumluluk bilinci ile hareket ederek insan haklarına saygı göstermek

2. Ayşe, annesi ile alışverişe gitmişti. Annesi alışveriş merkezinden ihtiyaçlarını alırken Ayşe'nin aklına daha önce gittikleri mahalle pazarı geldi. Geçen yıl tüm ihtiyaçlarını oradan alıyorlardı. Ancak annesi artık mahalle pazarı yerine alışveriş merkezini tercih ediyordu. Ayşe, annesine bunun nedenini sorduğunda annesi ona, alışveriş merkezlerinden her türlü alışveriş yapabildiklerini ve daha eğlenceli vakit geçirdiklerini söyledi.

Ayşe'nin yaşadığı bu olay aşağıdaki durumlardan hangisinin kanıtıdır?

- A) Zaman içerisinde alışveriş kültüründe değişimlerin yaşandığının
B) Kültürel özelliklerin korunduğunun
C) Kültürel özelliklerin değişime kapalı olduğunun
D) Mahalle pazarı kültürünün günümüzde yok olduğunun

3. Tarih öncesi devirler insanların kullandıkları malzeme türüne göre taş ve maden devri olarak ayrılırken, tarihi devirler insanlığı etkileyen önemli olayların gerçekleşmesi ile birbirinden ayrılmıştır. Tarihî devirlerin başlaması ise bilginin kaydedilmesi ve sonraki nesillere aktarılabilmesini sağlayan bir gelişme ile sağlanmıştır.

Buna göre ilk çağ uygarlıklarının tarihî devirlere geçmelerinde;

- I. Sümerlerin yazıyı icat etmeleri,
- II. Lidyalıların parayı icat etmeleri,
- III. Urartuların mezarlarını oda şeklinde yapmaları

gelişmelerinden hangilerinin katkısı olmuştur?

- A) Yalnız I.
- B) Yalnız II.
- C) I ve II.
- D) I ve III.

4. Murat'ın ailesi şehrin dışındaki bir mahallede yaşıyordu. Murat'ın yaşadığı mahallenin yanına başına bir lastik fabrikası kuruldu. Bu fabrika, bacalarına filtre takmadığı için havayı kirletmeye başladı. Bu nedenle de bölgede solunum yolları hastalıkları arttı. Bu durum bölge halkının evlerinden dışarı çıkamamalarına sebep oldu.

Buna göre Murat'ın hangi hakkı ihlal edilmiştir?

- A) Sağlık hizmetlerinden yararlanma hakkı
- B) Yerleşme hakkı
- C) Sağlıklı bir çevrede yaşama hakkı
- D) Sağlıklı beslenme hakkı

5. Anadolu'da Çorum ili yakınlarında bulunan Alacahöyük'te yapılan bir kazıda Hititlere ait olduğu düşünülen bazı eserlere rastlanılmıştır.

Yapılan kazıda bulunan aşağıdaki eserlerden hangisinin Hititlere ait olması beklenebilir?

- A) At koşum takımlarını süslemede kullanılan güneş kursları
- B) Çeşitli madenlerden yapılmış çengelli iğneler
- C) Kralların faaliyetlerini anlatan anal yıllıkları
- D) Kil tabletler üzerine yazılmış antlaşma metinleri

6. İnsan eli değmeden, doğada kendiliğinden oluşan, gezilip görülebilecek, eşsiz güzellikteki yerler ve unsurlara “doğal varlık” adı verilmektedir.

Buna göre aşağıda verilen unsurlardan hangisi doğal varlık değildir?



Uzungöl



Peribacaları



Selimiye Camii



Ağrı Dağı

7. Ülkemizde Ege ve Akdeniz kıyılarında zeytinin fazla yetiştirilmesi nedeniyle yemekler zeytinyağı kullanılarak yapılmaktadır. Karadeniz kıyılarında yapılan balıkçılık, buralarda balık yemeklerinin ön plana çıkmasını sağlamıştır. Ülkemizin doğu ve güneydoğu bölgelerinde tarım alanlarının kısıtlı olması hayvancılığın yaygınlaşmasını ve öte yandan bölgede yapılan yemeklerde etin daha çok kullanılmasını sağlamıştır. Bu özellikleri ile ülkemiz farklı yemeklerin yapıldığı zengin yemek kültürüne sahip olan ülkelere biri hâline gelmiştir.

Verilen bilgilere bakılarak ülkemizdeki yemek kültürü ile ilgili aşağıdaki yargılardan hangisine ulaşılabilir?

- A) Yörelere coğrafi özellikleri yemeklerde kullanılan malzemeleri ve yemek türlerini etkiler.
 B) Tüm bölgelerin coğrafi özellikleri benzer olduğundan aynı tür yemekler yapılır.
 C) Balık yemekleri sadece Karadeniz kıyılarında yenilir.
 D) Ülkemizde yapılan yemek çeşitleri diğer ülkelere göre daha fazladır.

8. Ben Nihat, bir şirkette muhasebecilik yapıyorum. Çocuklarımdan küçük olanı ilkokula yeni başladı, büyüğü 3. sınıfa gidiyor. Eve geldiğimde onların ödevlerine yardımcı oluyorum. Eşim ev hanımı. Tüm gün ev işleri ile uğraştığından yoruluyor, ben de eve geldiğimde ona ev işlerinde yardımcı oluyorum. Annem de zaman zaman bizi ziyaret ederek çocuklarım ile ilgileniyor.

Metne göre aşağıdakilerden hangisi Nihat Bey'in üstlendiği rollerden biri değildir?

- A) Eş olmak B) Evlat olmak
C) Baba olmak D) Yönetici olmak

9. Ülkemizde yıl içerisinde birden fazla bayram kutlanmaktadır. Bu bayramlardan bazıları da mevsimlik olarak kutlanmaktadır.

Buna göre;

- I. Hıdırellez,
II. 30 Ağustos Zafer Bayramı,
III. Nevruz

numaralandırılmış bayramlardan hangileri mevsimlik bayramlar arasında bulunmaktadır?

- A) Yalnız I. B) I ve III.
C) II. ve III. D) I, II ve III.

10. Türk kültürüne ve Türk milletine ait, nesilden nesile aktarılan, yaşam tarzlarımızı oluşturan davranışlarımız ve alışkanlıklarımız bulunmaktadır. Bu davranış ve alışkanlıklara gelenek ve görenek adı verilir.

Aşağıda verilen uygulamalardan hangisi bu davranış ve alışkanlıklarımıza örnek gösterilemez?

- A) Asker uğurlama törenleri yapmak
B) Bayramlarda büyükleri ziyaret etmek
C) Nişan ve düğün merasimleri düzenlemek
D) Yılbaşı kutlamaları hazırlamak

Bu testte 10 soru vardır. Önerilen süre 15 dakikadır.

1.

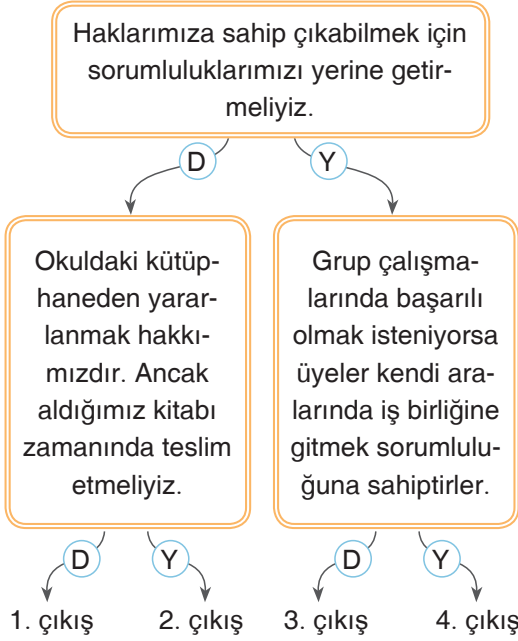


1995'te 14 kurt yeniden ABD'de bulunan Yellowstone Millî Parkı'na salındı. O an kimse kurtların bir mucizeye sebep olacağını bilmiyordu. Kurtların gelişyle geyikler parkın başka bölgelerine kaçmaya başladı. Geyiklerin olmayışı bitkilerin yeniden büyümesi demektir. Birçok kavak ve söğüt ağacı büyümeye başladı. Bu tam da besin zincirinin tetiklendiği ana denk geliyordu. Ağaç ve çalılıkların artışıyla daha çok yemiş ve böcek ortaya çıkmaya başladı. Bu çeşitlilik birçok kuş ve diğer hayvan türlerinin de parka geri dönmesine sebep oldu. Daha önce parkta yok olan kunduzlar geri geldi. Kunduzların odun ve kütüklerle derelerin üzerine yaptıkları engeller nedeniyle oluşan barajlar su samuru, misk sıçanı ve çeşitli sürüngenlerin ilgi odağı oldu. Kurtlar aynı zamanda çakalları da öldürdü. Bu durum fare ve tavşan nüfusunun artmasına sebep oldu. Bu da kızıl tilki, sansar, porsuk ve baykuşların parktaki av sayısını artırmış oldu. Kel kartal türünün de nüfusu arttı. Fakat tüm bunlardan daha da ilginç olanı kurtlar nehrin dahi değişimine sebep oldular. Bitki örtüsünün artışı bölgedeki erozyonu azalttı ve nehir kıyıları yaşama elverişli hâle geldi. Böylece kurtlar Yellowstone Parkı'nın yeni ekosistem denge unsuru olmasının yanı sıra parkın fiziksel değişimine de sebep oldular.

Verilen örnek olay dikkate alındığında olayların özellikleri ile ilgili hangi sonuca ulaşılabilir?

- A) Olayların gerçekleşme sebepleri tek bir nedene bağlanabilir.
- B) Olayların oluşması sebep-sonuç ilişkisi doğrultusunda gerçekleşir.
- C) Olayların ortaya çıkmalarının birbirleriyle ilişkisi bulunmaz.
- D) Olayların sonuçları tüm canlıları etkileyebilir.

2.



Şemadaki bilgiler doğru-yanlış şeklinde değerlendirilerek ilerlendiğinde hangi çıkışa ulaşılabilir?

- A) 1. çıkış B) 2. çıkış
C) 3. çıkış D) 4. çıkış

4. Ortak bir amaç için bir araya gelmiş, en az iki ve daha fazla kişiden oluşan, aralarında ilişki ve iş birliği bulunan topluluğa "grup" denmektedir.

Buna göre aşağıdakilerden hangisi grup sayılmaz?



Aile



Halk Oyunları Ekibi



Sınıf



Banka Kuyruğunda Bekleyenler

3. Yurdumuzun değişik bölgelerinde çeşitli el sanatları ile uğraşılmaktadır. Gaziantep yöresinde bakırcılık, Kayseri Bünyan'da halıcılık, İznik'te çinicilik ön plandadır.

Buna göre el sanatlarıyla ilgili aşağıdaki ifadelerden hangisi doğrudur?

- A) Bakırcılık sadece Gaziantep yöresinde kullanılmaktadır.
B) El sanatları değişime uğramadan günümüze ulaşmaktadır.
C) Ülkemizin değişik yörelerinde el sanatlarında çeşitlilik görülmektedir.
D) El sanatları alanında yöreler arasında rekabet yaşanmaktadır.

5. I. Başkentleri Sardes şehrinden başlayıp Nino'ya'ya kadar uzanan "Kral Yolu"nu yaptılar.
 II. Dünyanın yedi harikasından biri olarak sayılan "Artemis Tapınağı"nı inşa ettiler.
 III. Tapates adı verilen halı ve kilimleri ile ünlüdürler.
 IV. Tuşpa (Van) Kalesi günümüze kadar ulaşabilen eserlerindedir.
 Yukarıda İlk Çağ medeniyetlerine ait bazı özellikler belirtilmiştir.

Buna göre verilen özelliklerle uygarlıkların doğru eşleştirilmesi hangi seçenekte verilmiştir?


	I	II	III	IV
A)	Lidya	Hitit	Frig	İyon
B)	Hitit	Lidya	Urartu	Frig
C)	Lidya	İyon	Frig	Urartu
D)	Urartu	Lidya	İyon	Hitit

6. Bayramlarımız millî, dinî ve mevsimlik olmak üzere üç kategoriye ayrılmakta, milletçe birlik ve beraberliğimizi güçlendiren, aile, akraba ve arkadaşlarımızla bizleri bir araya getiren kültürel değerlerdir. Milletimizin kutladığı bu bayramlardan bazıları farklı kategoride bulunsalar dahi Türk milletine has özellikler içerdiğinden millî bayram gibi sayılabilirler.

Verilen bilgilere göre aşağıdakilerden hangisi farklı kategoride olup millî özellikler taşıyan bayramlardan biri olamaz?

- A) Nevruz Bayramı
 B) 23 Nisan Ulusal Egemenlik ve Çocuk Bayramı
 C) Ramazan Bayramı
 D) Hıdırellez Bayramı

7. Aşağıdakilerden hangisi ülkemizdeki doğal varlıklardan biridir?




Süleymaniye Camii



Dolmabahçe Sarayı



Efes Antik Kenti



Ağrı Dağı